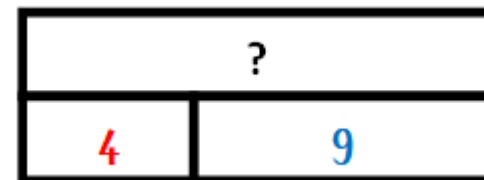


Dans une boîte, il y a **4** cartes rouges et **9** cartes bleues.

Combien y a-t-il de cartes dans la boîte ?



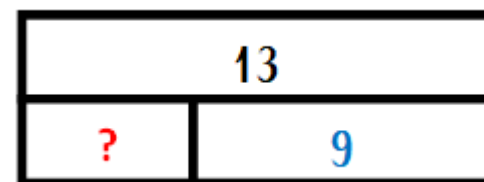
$$4 + 9 = 13$$

Il y a **13** cartes dans la boîte.

Dans une boîte, il y a **13** cartes : des rouges et des bleues.

Il y a **9** cartes bleues.

Combien y a-t-il de cartes rouges ?

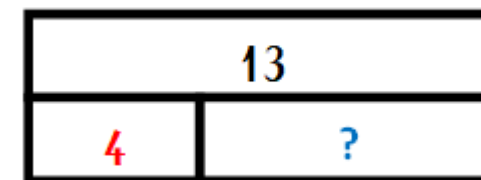


$$9 + ? = 13$$

$$13 - 9 = ?$$

$$13 - 9 = 4$$

Il y a **4** cartes rouges dans la boîte.



$$4 + ? = 13$$

$$13 - 4 = ?$$

$$13 - 4 = 9$$

Il y a **9** cartes bleues dans la boîte.

Dans une boîte, il y a **13** cartes : des rouges et des bleues.

Il y a **4** cartes rouges.

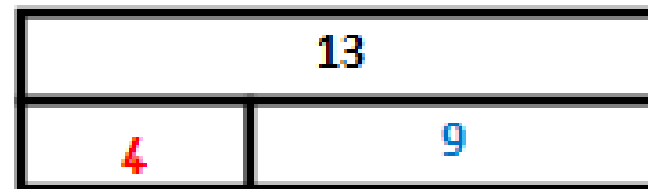
Combien y a-t-il de cartes bleues ?

TOUT



Dans une boîte, il y a 13 cartes:
4 cartes rouges et 9 cartes bleues.


$$4 + 9 = 13$$



$$13 - 4 = 9$$

$$13 - 9 = 4$$

PARTIE



PARTIE

